



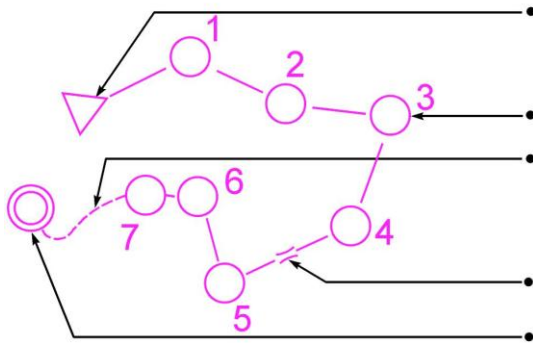
2012

BALISE VERTE

Direction Technique Nationale

1. Relie le symbole à sa signification? (1,25 points)

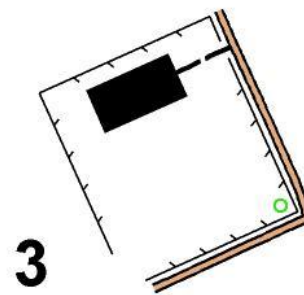
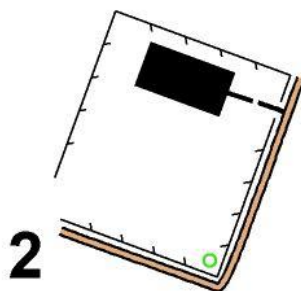
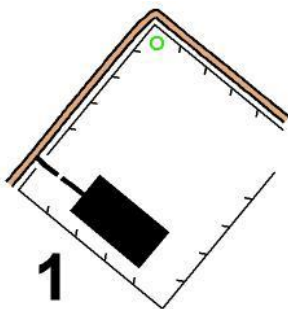
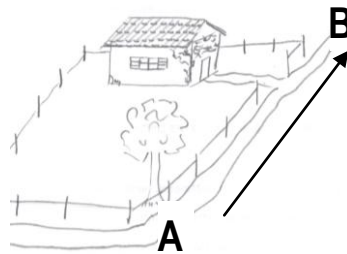
pts



- Arrivée
- Poste de contrôle
- Passage obligatoire
- Départ
- Parcours balisé

2. Tu dois savoir orienter ta carte. Tu es situé au point A et tu veux aller au point B. Comment dois-tu tenir ta carte dans ta main ? Entoure le plan bien orienté : (1 point)

pts



3. Cite 4 couleurs qui représentent les symboles sur la carte d'orientation : (1 point)

pts

--	--	--	--

4. De quelle couleur est représentée une clôture sur la carte ? (1 point)

pts

5. Quel plan correspond au paysage? Entoure la réponse juste : (1 point)

pts



A

B

C

D


6. Relie par un trait le symbole à sa définition (2 points)

pts

- | | | | |
|---|---|---|-------------------|
| ○ | ● | ● | RUINE |
| — | ● | ● | BORNE |
| ■ | ● | ● | CHEMIN |
| ■ | ● | ● | OBJET PARTICULIER |
| □ | ● | ● | ARBRE |
| ∧ | ● | ● | BATIMENT - MAISON |
| × | ● | ● | CHAMP |
| ○ | ● | ● | CLOTURE |

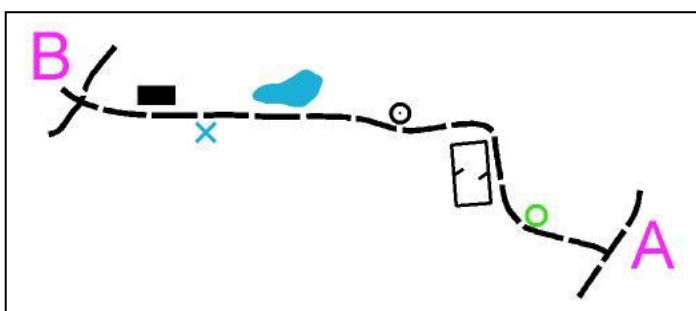
7. Donne la définition de ce symbole : (1 point)

pts

	<input type="checkbox"/> Ruisseau <input type="checkbox"/> Chemin <input type="checkbox"/> Route
---	--

8. Pour aller de A vers B, en suivant le chemin, tu passes à côté de différents éléments situés à droite ou à gauche du chemin. Suivant que ces éléments se situent à gauche ou à droite du chemin, classe les dans la bonne colonne et donne leur signification (3 points)

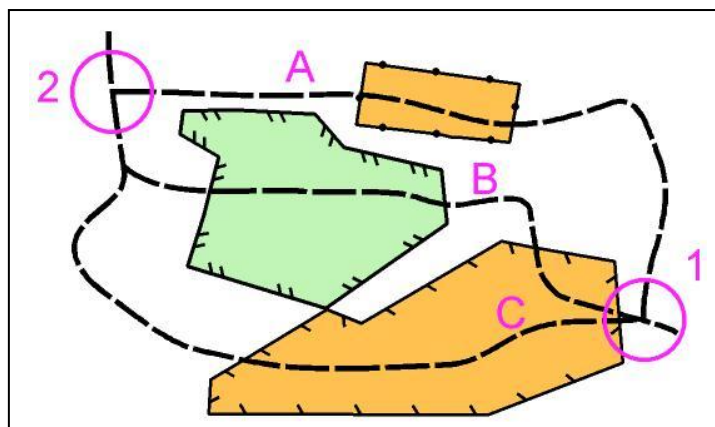
pts



DEFINITIONS ELEMENTS A GAUCHE DU CHEMIN	DEFINITIONS ELEMENTS A DROITE DU CHEMIN

9. Entoure la (ou les) lettre du chemin par lequel tu peux passer pour aller du poste 1 au poste 2. (1 point)

pts

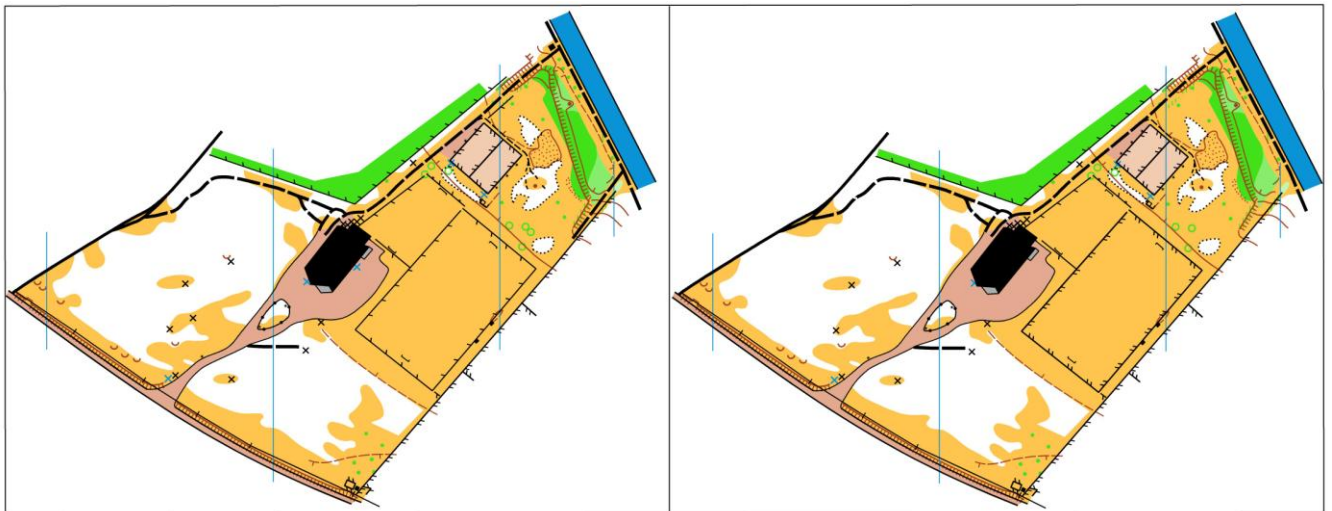


10. Sur la carte d'orientation, quelle est la couleur utilisée pour représenter un étang, une mare? (1 point)

pts

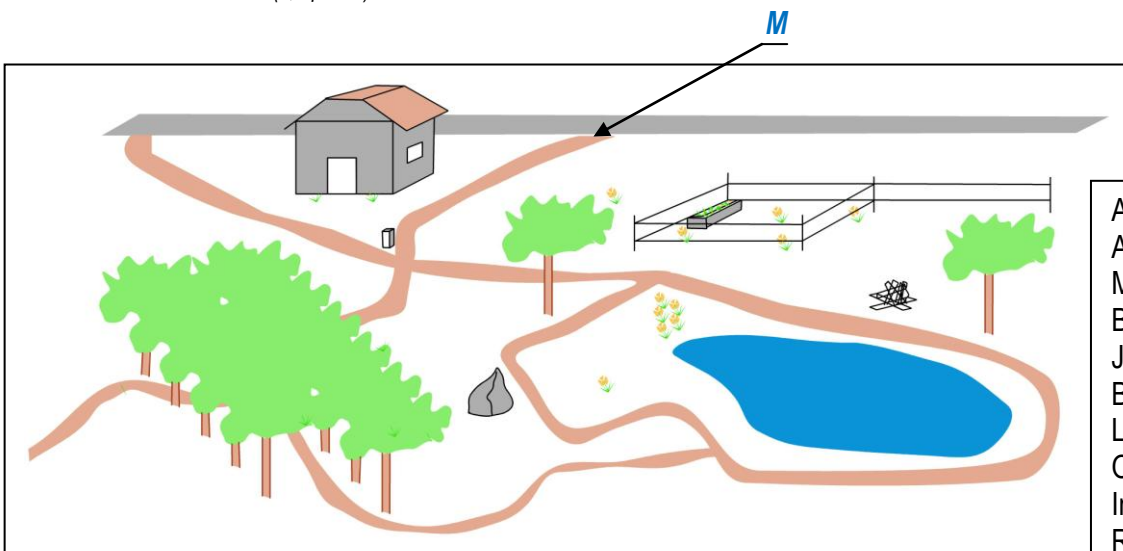
11. Sur ces deux cartes pratiquement identiques, trouver au moins 5 erreurs. Les noter en les entourant d'un cercle sur la carte de **gauche**. (1 point)

pts



12. Trouve sur le paysage, les emplacements des balises correspondant aux définitions qui figurent dans le tableau et indique chaque emplacement avec une flèche comme le modèle de la flèche M pour la jonction de sentiers (2,5 points)

pts



Arbre isolé	_____	A
Angle de la clôture	_____	B
Maison	_____	C
Bord de la mare	_____	D
Jonction de sentiers	_____	E
Borne	_____	F
Limite de végétation	_____	G
Objet particulier	_____	H
Intersection de sentiers	_____	K
Rocher	_____	L
Jonction sentier route	_____	M

13. Reporte sur la photo aérienne les balises qui figurent sur la carte : (1,25 points)

pts



